

ÜÇGENDE EN AZ ÇEVRE UZUNLUĞUNU BULMAK

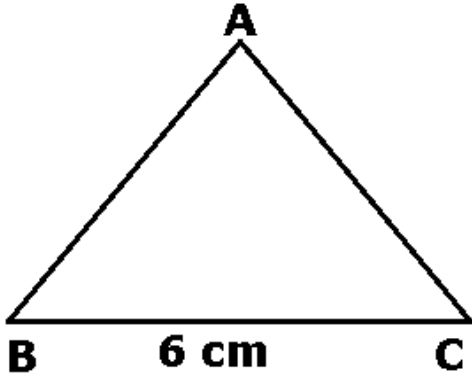
**Bir üçgende herhangi bir kenar uzunluğu
üçgenin çevre uzunluğunun yarısından
küçüktür.**

ÖMER ASKERDEN

PİRİ MEHMET PAŞA ORTAOKULU

UZMAN İLKÖĞRETİM MATEMATİK ÖĞRETMENİ

omeraskerden@hotmail.com.tr

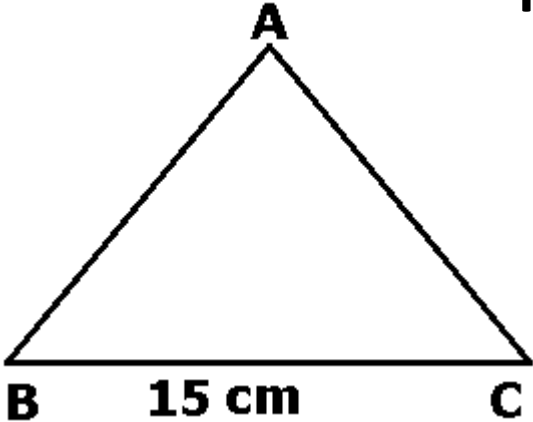


Yandaki ABC üçgeninin çevresi en az kaç cm dir?

$$a < \frac{a+b+c}{2} \Rightarrow 6 < \frac{a+b+c}{2}$$

$$12 < a+b+c \Rightarrow 12 < 13$$

Çevre – en – az – 13 – cm – olmalıdır

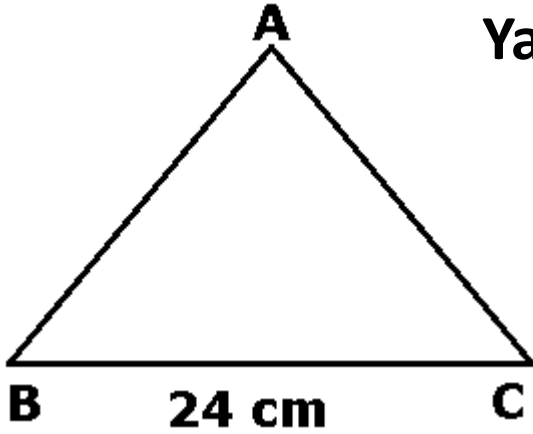


Yandaki ABC üçgeninin çevresi en az kaç cm dir?

$$a < \frac{a+b+c}{2} \Rightarrow 15 < \frac{a+b+c}{2}$$

$$30 < a+b+c \Rightarrow 30 < 31$$

Çevre – en – az – 31 – cm – olmalıdır

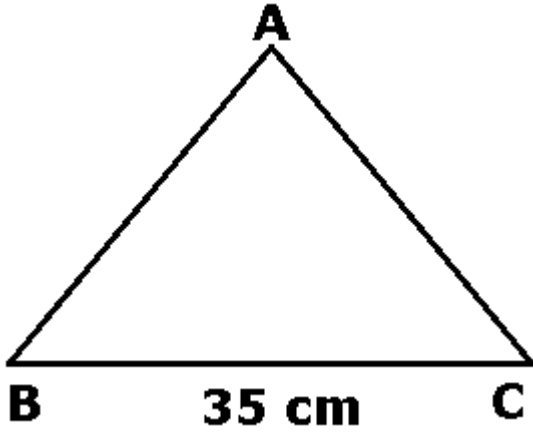


Yandaki ABC üçgeninin çevresi en az kaç cm dir?

$$a < \frac{a+b+c}{2} \Rightarrow 24 < \frac{a+b+c}{2}$$

$$48 < a+b+c \Rightarrow 48 < 49$$

Çevre – en – az – 49 – cm – olmalıdır



Yandaki ABC üçgeninin çevresi en az kaç cm dir?

$$a < \frac{a+b+c}{2} \Rightarrow 35 < \frac{a+b+c}{2}$$

$$70 < a+b+c \Rightarrow 70 < 71$$

Çevre – en – az – 71 – cm – olmalıdır

HAZIRLAYAN

ÖMER ASKERDEN

PİRİ MEHMET PAŞA ORTAOKULU

UZMAN İLKÖĞRETİM MATEMATİK ÖĞRETMENİ

omeraskerden@hotmail.com.tr